





Mon livret de problèmes




Je cherche.




Toute la classe valide.
Je recopie.

Léo a 13 billes. Marie a 5 billes de plus que lui.
Combien Marie a-t-elle de billes ?




Marie a billes.




Marie a billes.

11 personnes sont dans un bus. Le bus s'arrête et des personnes montent. Il y a 19 personnes dans le bus.

Combien de personnes sont montées à l'arrêt ?




personnes sont montées dans le bus.




personnes sont montées dans le bus.

Samira souffle ses bougies.
Demain, son frère Ali soufflera 4 bougies de plus.
Quel âge aura Ali ?



Ali aura ans.



Ali aura ans.



J'ai ... ans.



Demain,
j'aurai ans.

Dans l'immeuble de Marie, il y a 13 étages.
Dans l'immeuble de Jules, il y a 4 étages de plus.
Combien y a-t-il d'étages dans l'immeuble de Jules ?





Diagram of a building with 3 floors: one large top floor and two smaller bottom floors.

Il y a étages dans l'immeuble de Jules.



Group of stick figures and an OK button.



Diagram of a building with 3 floors: one large top floor and two smaller bottom floors.

Il y a étages dans l'immeuble de Jules.

3 enfants veulent se partager 18 images.
Combien d'images aura chaque enfant ?





Diagram of a building with 4 floors: one large top floor and three smaller bottom floors.

Chaque enfant aura images.



Group of stick figures and an OK button.




Diagram of a building with 4 floors: one large top floor and three smaller bottom floors.


Chaque enfant aura images.

Sami a 18 billes. Il met 13 billes dans sa poche droite et les autres billes dans sa poche gauche.

Combien de billes Sami a-t-il mis dans sa poche gauche ?




Sami a mis billes dans sa poche gauche.




Sami a mis billes dans sa poche gauche.

Il y a 24 élèves dans la classe. Pour participer à des rencontres sportives, le professeur constitue des équipes de 4 élèves.

Combien y-aura-t-il d'équipes ?




Il y aura équipes.



Il y aura équipes.

Marie a fait un bouquet avec 24 fleurs. Il y a 18 marguerites et des roses.

Combien y a-t-il de roses dans le bouquet ?




Il y a roses dans le bouquet.




Il y a roses dans le bouquet.

La maîtresse range des feutres dans 3 boîtes. Elle met 8 feutres dans chaque boîte.

Combien la maîtresse range-t-elle de feutres ?




La maîtresse range feutres.




La maîtresse range feutres.

Marie joue au jeu de l'oie. Elle est sur la case 53 et doit reculer de 7 cases.

Sur quelle case Marie va-t-elle poser son pion ?




Marie va poser son pion sur la case .




Marie va poser son pion sur la case .

Pour l'anniversaire de sa fille, maman a fait 4 gâteaux. Elle coupe chaque gâteau en 6 parts. Elle peut donner une part à chaque enfant et il n'en reste pas.

Combien y a-t-il d'enfants ?



Il y a enfants .



Il y a enfants .